

बृहन्मंडई महानगरपालिका शिक्षण विभाग
संकलित मूल्यमापन - १

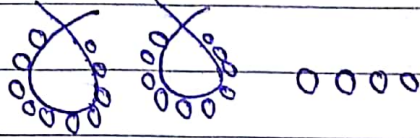
कक्षा- दूसरी

विषय - गणित

सुन - २०

प्र.१ मणके गिनो और सही संख्या चुनो:


①



- ① २२ ② २३ ③ २४ ④ २५

प्र.२ वस्तु गिनो और सही अंक चुनो:

①



- ① एक ② दो ③ तीन ④ चार

प्र.३ दिए गए वस्तुओं में सबसे कम वजन वाली वस्तु पर
निशान लगाओ:



प्र.४ निम्नलिखित संख्या में इकाई पहचानो:

①

संख्या : ३४

- ① १ ② २ ③ ३ ④ ४

प्र.५ दिया गया आकार पहचानकर उचित पर्याय पर निशान
लगाओ:




- ① वृत्त ② आयत
③ वर्ग ④ त्रिभुज

प्र. 5 नीचे दिए गए चित्र में 'बूत' की संख्या गिनकर सही पर्याय चुनो: ①



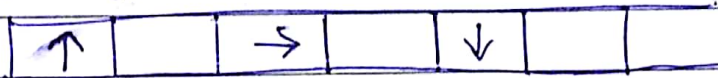
- ① 9 ② 2 ③ 3 ④ 8

प्र. 6 चित्र का निरीक्षण कर चित्रों में आए हुए अंतर की संख्या पहचानकर उचित पर्याय चुनो: ①



- ① 8 ② 3 ③ 2 ④ 9

प्र. 7 आकृतियों को पूर्ण करो: ①



- ① ← ② ↑ ③ → ④ ↓

प्र. 8 रिक्त स्थान पर सही महीने का चुनाव करो: ①

मई जुलाई

- ① अप्रैल ② अगस्त
③ जून ④ मार्च

प्र. 9 एक सप्ताह में _____ दिन होते हैं। ①

- ① 3 ② 8 ③ 7 ④ 6

प्र. 99 निम्नलिखित आकृतिबंध का निरीक्षण करो: रिक्त स्थान पर सही संख्या का चयन करो: ①

२	४		८	१०
---	---	--	---	----

- Ⓐ ५ Ⓑ ६ Ⓒ ७ Ⓓ ८


प्र. 92 दो अंकोवाली बड़ी संख्या पर निशान लगाओ: ①

- Ⓐ ६८ Ⓑ ५२ Ⓒ ४३ Ⓓ २१

प्र. 93 निम्नलिखित जोड़ियों में 'इकाई' और 'दहाई' की गलत जोड़ी पहचानो: ②

- Ⓐ २ दहाई १ इकाई = २१
 Ⓑ ३ दहाई ५ इकाई = ३५
 Ⓒ ५ दहाई ६ इकाई = ५६
 Ⓓ ६ दहाई ८ इकाई = ८६

चित्र का निरीक्षण करो: प्रश्न क्र. 94, 95 के लिए उचित पर्याय चयनो:



प्र. 94 चित्र में 'आम' तथा 'स्ट्रॉबेरी' की कुल मिलाकर संख्या: ②

- Ⓐ ९ Ⓑ १० Ⓒ ११ Ⓓ १२

प्र. १५ चित में 'तोते' गिन्कर सही पर्याय चुनो:

(2)

- १) १ २) ३ ३) ५ ४) ७

प्र. १६ घटाओ: उचित पर्याय पर निशान लगाओ:

(2)

$$\begin{array}{r} १५ \\ - ९ \\ \hline \end{array}$$

- १) ६ २) ८ ३) १५ ४) २४