

ಸಂಕಲಿತ ಯೋಜನೆಯ ವಿವರಣೆ : ೨೦೧೮-೧೯^{1st}

maths
Kannada

ಇಯತ್ನ :- ೧ನೇ

ಲಿಪಿಯು: ಗಣಿತ

ವಿದ್ಯಾರ್ಥಿಯ ಹೆಸರು:

ಹಜರಿತು:


ಶಾಲೆಯ ಹೆಸರು:

ವಿಭಾಗ:


ದಿನಾಂಕ: / / ೨೦೧೮

ಗುಣಗಣನೆ: ೨೦

ಪ್ರ-೧) ಎಲ್ಲಕ್ಕಿಂತ ಹೆಚ್ಚು ಚಿತ್ರಕ್ಕೆ ಗೋಲಿ ಯಾದು (ಕು-೧)



ಪ್ರ-೨) ಎಲ್ಲಕ್ಕಿಂತ ಎತ್ತರವಾದ ಮರ ಸುರಾಚಿ ಯೋಜನೆ ಪಯಸ್ಕಯಾಕ್ಕೆ ಗೋಲಿ ಯಾದು (ಕು-೧)

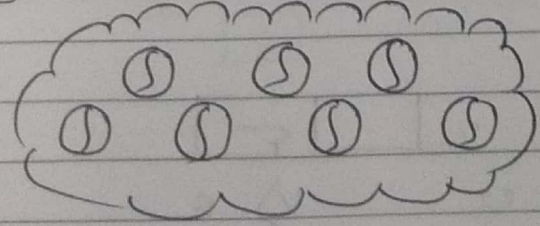


೧) B ೨) A ೩) D ೪) C

ಪ್ರ-೩) ಎಲ್ಲಕ್ಕಿಂತ ಚಿಕ್ಕ ಸುಜ್ಞೆ ಸುರಾಚಿ ಯೋಜನೆಯಾದ ಪಯಸ್ಕಯಾಕ್ಕೆ ಗೋಲಿ ಯಾದು (ಕು-೧)

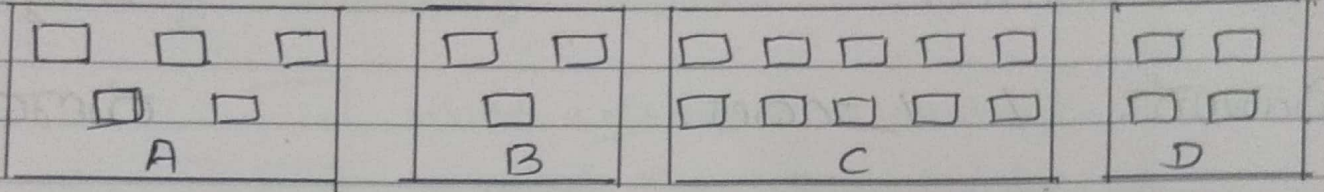
೧) ೩ ೨) ೪ ೩) ೨ ೪) ೧

ಪ್ರ-೪) ಚಿತ್ರ ವೀಕ್ಷಿಸಿ ಯೋಜನೆಯಾದ ಉತ್ತರಕ್ಕೆ ಗೋಲಿ ಯಾದು (ಕು-೧)




೧) ೩ ೨) ೪ ೩) ೮ ೪) ೨

ಕ್ರ-೨) ಎಲ್ಲಕ್ಕಿಂತ ಹೆಚ್ಚು ವಸ್ತುಗಳನ್ನು ತೋರಿಸುವ ಚಿತ್ರ ಸುರೂಚಿ ಯೋಜನೆ ಯೆಂದೇ ಅರ್ಥವು.
-ಕ್ಕೆ ಸೇರಲು ಯುಂಟು (ಸು-೧)




೧) C ೨) A ೩) B ೪) D

ಕ್ರ-೩) ಚಿತ್ರ ಎಣಿಸಿ ಸರಿಯಾದ ಉತ್ತರಕ್ಕೆ ಸೇರಲು ಯುಂಟು (ಸು-೧)




೧) ೨ ೨) ೩ ೩) ೪ ೪) ೨

ಕ್ರ-೪) ನಡುವಿನ ಸಂಖ್ಯೆ ಸುರೂಚಿ ಸೇರಲು ಯುಂಟು (ಸು-೧)




೧) ೩ ೨) ೪ ೩) ೨ ೪) ೮

ಕ್ರ-೫) ಹತ್ತಿರದ ಮಾದರಿ ಸಂಖ್ಯೆ ಸುರೂಚಿ ಸೇರಲು ಯುಂಟು (ಸು-೧)



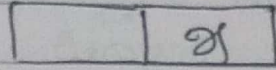
೧) ೮ ೨) ೨ ೩) ೪ ೪) ೧೦

ಕ್ರ-೬) ಕೆಳಗಿನ ಚಿತ್ರಗಳಲ್ಲಿ ಎಷ್ಟು ಚೌಕಗಳಿವೆ ಎಂಬುದನ್ನು ಬರೆಯುವ ಸಂಖ್ಯೆಯನ್ನು ಅರ್ಥವು ಯಕ್ಕೆ
ಸೇರಲು ಯುಂಟು (ಸು-೧)



೧) ೪ ೨) ೪ ೩) ೮ ೪) ೬

ಪ್ರ-೧೧) ಹತ್ತಿರದ ಹಿಂದಿನ ಸಂಖ್ಯೆ ಗುರುತಿಸಿ ಕೋಲೆ ಮಂಡು (ಸು-೧)



೧) ೪ ೨) ೨ ೩) ೨ ೪) ೯

ಪ್ರ-೧೨) $\overline{0} \quad \overline{0} \quad \overline{0} \quad \overline{0} + \overline{0} \quad \overline{0} \quad \overline{0} = \square$ (ಸು-೧)

೧) ೫ ೨) ೯ ೩) ೨ ೪) ೬

(ಸು-೧)

ಪ್ರ-೧೩) $\boxed{0000000} - \boxed{} = \boxed{0000000}$

೧) ೦ ೨) ೦೦ ೩) ೦೦೦ ೪) ೦೦೦೦

ಪ್ರ-೧೪) $\begin{array}{r} ೬ \\ + ೨ \\ \hline \end{array}$ (ಸು-೨)

$\underline{\quad}$

೧) ೪ ೨) ೯ ೩) ೬ ೪) ೫

ಪ್ರ-೧೫) ಜಯಸ ಹತ್ತಿರ ೫ ಹೆಜ್ಜೆಗಳಿಲ್ಲೆ ಏಳು ರಾಯಸ ಹತ್ತಿರ ೨ ಹೆಜ್ಜೆಗಳಿಲ್ಲೆ ಇನ್ನಾರು ಇಬ್ಬರು ಕೋಲೆ ಒಟ್ಟು ಎಷ್ಟು ಹೆಜ್ಜೆಗಳಿಲ್ಲೆ ?

(ಸು-೨)

$\begin{array}{r} \square \text{ ಜಯಸ ಹೆಜ್ಜೆಗಳು} \\ + \square \text{ ರಾಯಸ ಹೆಜ್ಜೆಗಳು} \\ \hline \end{array}$

$\underline{\quad}$ ಒಟ್ಟು ಹೆಜ್ಜೆಗಳು

ಸಂಕಲಿತ ಯೋಜನೆಯೇನೆ ೧: ೨೦೧೮-೧೯ JST Kanned Language

ಇಯತ್ತೆ: ೧ನೇ

ವಿಷಯ: ಕನ್ನಡ ಹಜರಿತೆ

ವಿದ್ಯಾರ್ಥಿಯ ಹೆಸರು:-


ವಿಭಾಗ:

ಬಲೆಯ ಹೆಸರು:-


ಸುಣ್ಣಗಳು: ೨೦

ದಿನಾಂಕ: / / ೨೦೧೮

ಪ್ರ-೧) ಕೊಟ್ಟ ಅಕ್ಷರಗಳಿಂದ ಬೇಕಾದ ಎರಡು ಅರ್ಥಪೂರ್ಣ ಶಬ್ದಗಳನ್ನು ತಯಾರಿಸಿ (ಸು-೨)



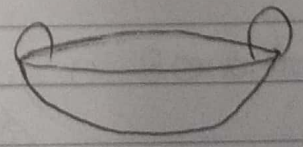
ಪ್ರ-೨) ಶಬ್ದಗಳನ್ನು ಕೇಳಿ ಬರೆ (ಸು-೨)



ಪ್ರ-೩) ಕೆಳಗೆ ಹೊಟ್ಟೆ ಆರೂರು ಶಬ್ದ ಸುರುಆನಿ ಆರು ಕುಟ್ಟಲು ಓ ಸೂಲ ಯುಡು "ಬಾಡುಕೋಲು" (ಸು-೧)

೧) ಕಾಣೆ ೨) ಬಕ್ಕು ೩) ಬಾಡುಕೋಲು ೪) ಕಾಲ

ಪ್ರ-೪) ಕೆಳಗೆ ಹೊಟ್ಟೆ ಬೆತ್ತ ಯುಡು ಅಕ್ಷರದಿಂದ ಪ್ರಾರಂಭವಾಗುತ್ತಿ ಆರು ಕುಟ್ಟಲು ಓ ಯುಡು (ಸು-೧)



೧) ಲ ೨) ಯ ೩) ಣಾ ೪) ಕ

ಅ-೨) ಬಿಟ್ಟ ಸ್ಥಳಗಳ ಯೋಜನೆಯ ಟಿಪ್ಪಣಿ ತುಂಬಿ ಕೆಲವು ಪ್ರಾಣಿ ಮಾದರಿ (ನು-೧)

ಊ

೧) ಏ ೨) ದ ೩) ಳ ೪) ಚ

ಅ-೩) ಕೆಳಗೆ ಕೊಟ್ಟ ಸ್ಥಳಗಳ ಯಾವ ಟಿಪ್ಪಣಿ ಸಮಾನವಾದಿ ಆ ಟಿಪ್ಪಣಿ ಸುತ್ತಲೂ (ನು-೧)

೦ ಮಾಡು

ಹಾರ ಕರ ಬರ ಮರ
೧) ಯು ೨) ನ ೩) ರ ೪) ಳ

ಅ-೪) ಕೆಳಗೆ ಕೊಟ್ಟ ಸ್ಥಳಗಳ ಕೊನೆಗೆ 'ಚ' ಇರುವ ಕೆಲವು ಸುರುತಿಳಿ ಆ ಸುರುತಿಳಿ ಸುತ್ತಲೂ (ನು-೧)

೧) ಕಲನ ೨) ಚಿತ್ರ ೩) ಚರಖ ೪) ಚಮಚ


ಅ-೫) ಕೆಳಗೆ ಕೊಟ್ಟ ಸ್ಥಳಗಳ ಯಾವ ಸ್ಥಳಗಳ 'ಇ' ಟಿಪ್ಪಣಿ ಹೋಲಿಕೆಯಾದಿ ದೊರೆ ಸುತ್ತಲೂ (ನು-೧)

೧) ಮಾಲ ೨) ಕಾಕ ೩) ಇಲ ೪) ಖಾಸು

ಅ-೬) "ಮಾ" ಟಿಪ್ಪಣಿಯಾದ ಪ್ರಾರಂಭವಾಗದೆ ಕೆಲವು ಸುರುತಿಳಿ ೦ ಮಾಡು (ನು-೧)

೧) ಮಾಲು ೨) ಕಾಲ ೩) ಮಾಣಿ ೪) ಮಾಲ

ಅ-೭) ಚಿತ್ರದ ಕೆಳಗೆ ಸುರುತಿಳಿ ೦ ಮಾಡು (ನು-೧)




೧) ಹಾರ ೨) ಹಡಗು ೩) ಕೆರಳಿ ೪) ಚಿತ್ರ

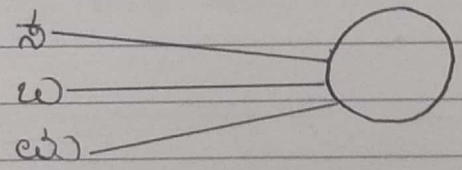
ಪ್ರ-೧೧) 'ಲಿ' ಛೇರದಿಂದ ಪ್ರಾರಂಭವಾಗುವ ಕಬ್ಬಿ ನುರುಳಿಡಿ ೦ ಚೂರು (ಸು-೧)

- ೧) ಸಾನುಕಲ್ಲು ೨) ಲಿಲಿ ೩) ಲಿಲಿ ೪) ಕಿರಿ

ಪ್ರ-೧೨) ಕೆಳಗೆ ಕೊಟ್ಟ ಚಿತ್ರಗಳಿಂದ ಲಿಲಿಯ ಚಿತ್ರ ನುರುಳಿಡಿ ಒಂದು ಕುಟ್ಟು (ಸು-೧)



ಪ್ರ-೧೩) ಗೋಲವಲ್ಲದ ಛೇರ ನುರುಳಿಡಿ ೦ ಚೂರು (ಸು-೧)



- ೧) ಕ ೨) ರ ೩) ಲಿ ೪) ಲಿ

ಪ್ರ-೧೪)

(ಸು-೧)

ಲಿ		
ಕ	ಕ	ಕ

- ೧) ಕ ೨) ಕ ೩) ಕ ೪) ಕ

1) ಕೆಳಗೆ ಕೊಟ್ಟ ಕ್ರಿಯೆಗಳಿಂದ ಕೃಷಿ ಸಂಬಂಧಿಸಿದ ಗುರುತಿಸಿ 0 ಯಾವುದು (ಸು-2)

- 1) ಕುರುಳಿ 2) ಮೊಣಸಿನಕಾಯಿ 3) ಮೆಣಸಿನಕಾಯಿ 4) ಲಾಠಿ

2) ಕೆಳಗೆ ಕೊಟ್ಟ ಪದಗಳಿಂದ ಕೆಳಗೆ 3 ಪದಗಳನ್ನು ಇರಿಸಿ (ಸು-2)

- 1) ಕಾಯಿಲೆ 2) ಕೃಷಿ 3) ಪ್ರಕೃತಿ 4) ಕೃಷಿ

