

మహారాష్ట్ర రాష్ట్ర శైక్షణిక పరిశోధన మరియు ప్రశిక్షణ పరిషత్.
ప్రగల్భ శైక్షణిక మహారాష్ట్ర

శైక్షణిక ప్రగల్భ పరిషత్

సంకలన మూల్యాంకనం - 1 - 2018-19

నాలుగవ తరగతి - వయసు : గణితం (అభివృద్ధి)

అధ్యాక్షి పేరు:-

పాఠశాల పేరు:-

కేంద్రం:- ఆలవ బిల్లా పాఠశాల మా.
(కమ సంఖ్య) అభిగమ డి. సంకం మొ.మా 30.

అన్ని ప్రశ్నలు సాధించండి. ప్రతి ప్రశ్న 1 మార్కు.

1. అంకము అక్షరాలలో రాయండి.

375 =

2. కంది సంఖ్యలను అంకాలలో రాయండి.

నాలుగు వందల డబ్బై రెండు =

3. నీల కంది సంఖ్యలలో నీల గోలుబడిన అంకం వలన వలన రాయండి.

785 =

4. అన్నింటి కంటే పెద్ద సంఖ్యకు గుండ్రం చూపుండి.

865 305 910

5. అసరణ రూపాన్ని బట్టి సంఖ్య రాయండి.

700 + 40 + 8 =

6. కింది సంఖ్యలను అవరోహణ క్రమములో రాయండి

415 462 481 -

7. కూడండి:

$$\begin{array}{r} 264 \\ + 503 \\ \hline \end{array}$$

8. కింది ఆకృతులను సంవృత ఆకృతుల గుర్తించండి

6 ౧ P.

9. తేలివేయండి.

$$\begin{array}{r} 869 \\ - 415 \\ \hline \end{array}$$

10. కింది సంఖ్య మూలకము పూర్తి చేయండి

 5 10 15

11. ఓక ప్రస్తకము ధర 31 రూపాయలు. అయిన 6 ప్రస్తకాల ధర ఎంత?

12. 16 బంతులను నలుగురికి సమానంగా పంపావారు. ఒక్కొక్కరికి ఎన్ని పస్తాయి.

○ ○ ○ ○ ○ ○ ○ ○

అన్నింటి కంటే అన్ని సంగతులను గుర్తించు వారి చుట్టు గుండం చుట్టండి.

71 63 44 33 29

14. కింద ఇవ్వబడిన సంగతులలో 7 యొక్క స్థాన విలువ తెలుపండి.

61738 =

15. గుణకారం చేయండి.



346 x 5

x	300	40	6
5			

16. భాగహారం చేయండి.

59 ÷ 8

17. కింది అక్షరాలలో వచ్చే క్రియాలున్నవి?



18. కూడండి

	వే	వం.	ప	ఓ.
	5	4	7	3
+	3	8	6	2

19. తోనేవోయండి.

	వో	వం	ప	ఓ
	9	6	0	2
-	3	2	4	6

20. కింది ఇవ్వబడిన అంకాలతో అన్నింటి కంటే పెద్ద బేదంకల సంఖ్యను రాయండి.

2, 5, 8, 3, 4

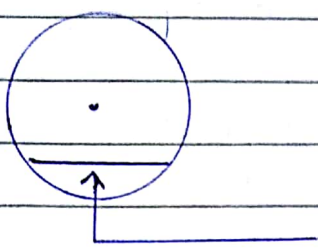
21. ఏక వర్ణ 375 ఋపాంశుల ఉన్నాయి. అందులో వచ్చి 100 ఋపాంశుల నోట్లు ఉన్నాయి.

22. కింది ఇవ్వబడిన సంఖ్యను అంశరూపంలో సంఖ్యలో రాయండి

4578

23. రమ్యే 14 అక్షరాలును నుండి 31 అక్షరాలును వరకు సూత్రాలలో పని చేశాడు. అయిన అతడు మొత్తం ఎన్ని రోజులు పని చేశాడు?

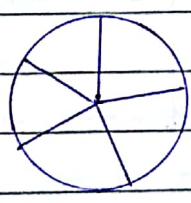
24 కింది వృత్తాకార పటంలో బాణాలలో చూపబడిన దానిని వివరించండి.



25 అక్షరాలలో ఇవ్వబడిన దానిని అక్షరాలలో రాసింది. 6 వేల 3 వందలు 6 పదులు మరియు 1 ఒకట్లు.



26 ఇచ్చిన అక్షరాలలో $\frac{3}{5}$ భాగానికి రంగు వేయండి.



27 భాగించండి.

$$40 \div 4 = \square$$

28 కింది ఇవ్వబడిన వడులను పూరించండి.

$$7 \times 5 = 35$$

$$35 \div 5 = \square \quad | \quad 35 \div 7 = \square$$

29. అశుభ వర్ష 9 నోట్లున్నాయి. వారున్నట్టి మొత్తం అయితే 500 రూపాయలు. అయిన అతని వడ్డ వియే అయితే గల నోట్లు విన్ని గలవు.

30. గుణకం చొప్పున 709 x 32

X	700	00	9
30			
2			

Handwritten text at the bottom of the page.